



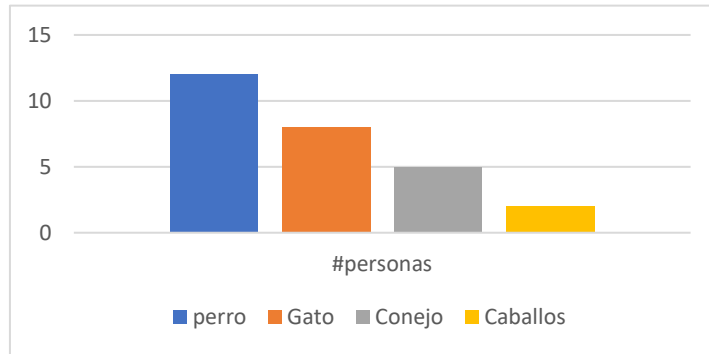
COLEGIO ARENYS DE MAR

Asignatura: Investigación

Nombre:

Con los datos recolectados en clase sobre los gustos de tus compañeros realiza una tabla donde agrupes cada tipo de respuesta y la cantidad de respuestas que tiene cada opción, después de esto realiza un diagrama de barras o un diagrama torta con estas respuestas y da una conclusión con los resultados obtenidos. Por ejemplo: animal favorito

perro	Gato	Conejo	Caballos
12	8	5	2



ACTIVIDAD: Consulta en 4 diferentes alimentos de tu hogar la tabla nutricional y escribe en tu cuaderno que tipo de nutrientes aporta a tu organismo cuando la consumes y que cantidad tiene presente en cada uno de ellos (por ejemplo: sodio 12g), adicional a ello consulta que beneficios y desventajas tiene para el cuerpo el consumo de estos nutrientes. Escribe 3 preguntas de investigación con respecto al tipo de nutriente que contiene cada alimento y el beneficio o perjuicio que puede causar el consumo excesivo de estos nutrientes, recuerda que puedes usar diferentes tipos de palabras pregunta.

Ejemplo de tabla nutricional






COLEGIO ARENYS DE MAR
Grado SEXTO

Asignatura: Educación Física

Nombre:

TALLER

1. Consulta cual es la historia del baloncesto en Colombia.
2. ¿Cuáles son los equipos más representativos del baloncesto en nuestro país y cuantos títulos de campeones poseen?
3. Nombra las habilidades motrices básicas que se desarrollan con el baloncesto (debes tener en cuenta cuales son las habilidades motrices básicas).
4. Grafica 2 ejercicios que ayuden a mejorar el aprendizaje del baloncesto (pivotear, girar, lanzar...)



LA CIVILIZACIÓN INDIA ANTIGUA

1. Realiza el siguiente mapa conceptual en el cuaderno

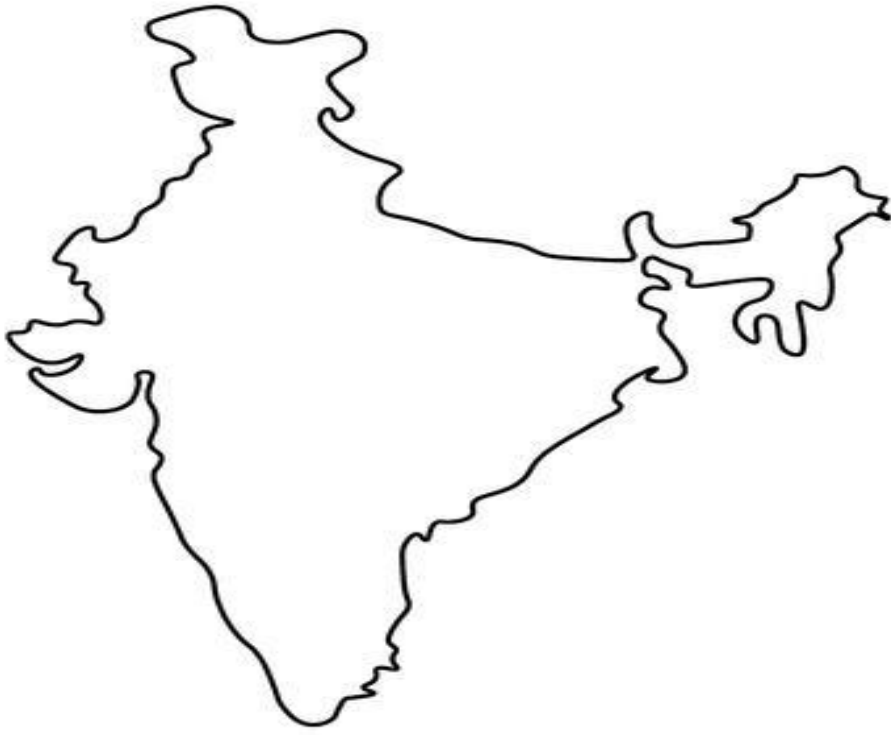


UBICACIÓN ESPACIAL DE LA INDIA

2. escribe en tu cuaderno la ubicación espacial de la india

En nuestra época se reconoce a la India por ser un país potencia en producción de software y por tener una cultura de gran identidad, con variedad de religiones y costumbres. La India está ubicada en el continente asiático, siendo el segundo país más poblado del mundo, después de China. En el territorio que hoy es India, principalmente entre los ríos Indo y Ganges, pero también los países vecinos de Pakistán, Afganistán, Birmania y Bangladesh, surgió una civilización en la antigüedad que logró ser muy importante para la región y para la humanidad.

3. Dibuja en tu cuaderno el siguiente mapa y ubica con ayuda del atlas en océano indico, el río Indo y el río Ganges





Colegio Arenys de Mar
Madres Escolapias

COLEGIO ARENYS DE MAR
MATEMÁTICAS
TRABAJO AUTÓNOMO DEL ESTUDIANTE

GRADO: SEXTO

FECHA: 23 de mayo.

Atención: Responde en tu cuaderno de matemáticas las preguntas de la siguiente actividad:

1. Complete la siguiente tabla:

Situación cotidiana	¿Cuál es el todo (unidad)?	Haga un dibujo y represente la situación en forma numérica.
Juan comió la mitad de la torta.		
Casi las tres cuartas partes de la superficie de la tierra están cubiertas de agua.		
Dos pelotas rojas en una colección de 9 pelotas.		
María comió cinco tercios de manzana.		

2. Un padre de familia decide repartir la herencia que ha obtenido durante muchos años de trabajo a sus dos hijos, de acuerdo con los siguientes criterios: al hijo mayor le corresponden las 2 terceras partes de la herencia, mientras que al menor le corresponde un tercio de la misma. Si el padre cuenta con una herencia de 9 casas, ¿cuántas le corresponden a cada uno de sus hijos?

Taller de lengua castellana

Leer el libro "El momo" los siguientes capítulos:

1. Momo y sus amigos
2. Una cualidad poco común y una pelea muy común
3. Una tempestad de juego y una tormenta de verdad.
4. Un viejo callado y un joven parlanchin
5. Cuentos para mucho y cuentos para una.



COLEGIO ARENYS DE MAR

Asignatura: Artes-6

Nombre:



Actividad

- 1- Haciendo uso de los materiales solicitados para la clase, se debe terminar la decoración de las maquetas y traerlas listas para exponerlas en la próxima clase.