



COLEGIO ARENYS DE MAR

Taller para el grado primero A

Las actividades que se van a mencionar las **DEBEMOS REALIZAR** en el cuaderno de cada asignatura con la fecha de 24 de mayo

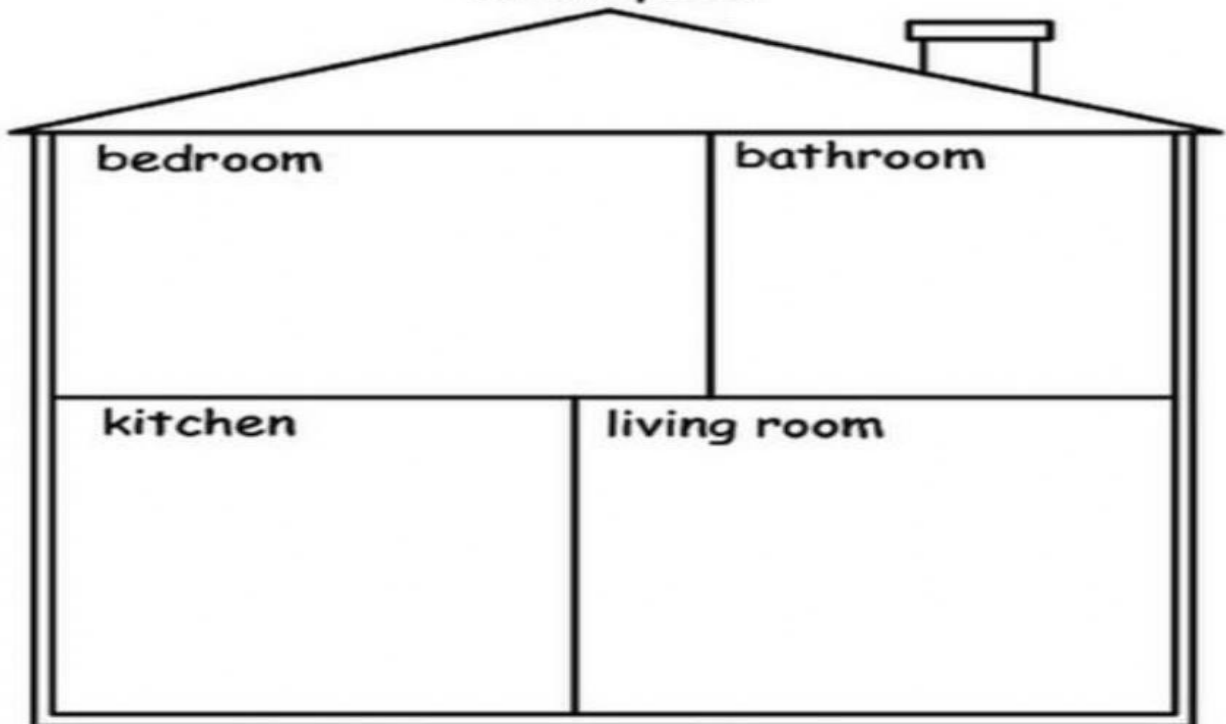
### INGLES

Objetivo: Identifico las partes de la casa

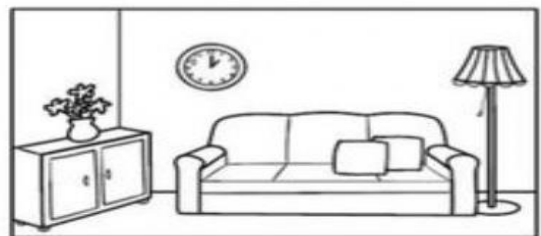
**Actividad:** En mi cuaderno coloreo, recorto y pego las partes de la casa en su respectiva posición

## Rooms in the House

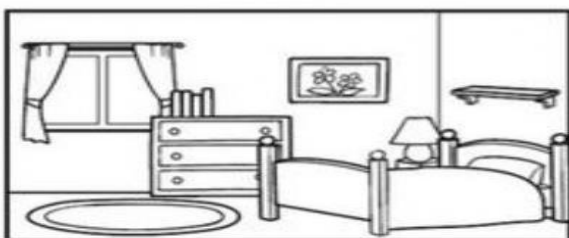
Cut and paste.




bathroom



living room



bedroom



kitchen



## LENGUA CASTELLANA

Tema: Sustantivo propio y sustantivo común.

Mi madre ha sembrado hiedra en la pared de ladrillos que hay en frente de la cristalera de mi vecina Francisca.



Orientación  
Arenys de Mar

Después de leer el pequeño párrafo, escribe los sustantivos propios y comunes que encuentres en la lectura

## EDUCACION FISICA

Los juegos tradicionales se hacen llamar así porque han tenido la virtud de ser transmitidos de generación en generación por medio de nuestros ancestros. Por medio de ellos guardamos grandes recuerdos, vivencias y anécdotas que marcaron nuestra niñez y la forma de relacionarnos con los demás.

### TALLER

1. Siéntate a escuchar y disfrutar la historia de los juegos de tus padres y/o abuelos de cuando jugaban y a qué jugaban.
2. Escribe esos juegos que has escuchado de tus padres y/o abuelos
3. Has un cuadro diferencial de los juegos que realizaban tus ancestros con los juegos que practicas tú.



COLEGIO ARENYS DE MAR

Taller para el grado primero A

**ETICA Y VALORES:** Tema: Deberes y derechos en la sociedad.



**1-** Debemos respetar a nuestros semejantes.



**2-** Debemos respetar a nuestros padres, maestros, y a todas las personas adultas.



**3-** Debemos respetar las diferentes opiniones y costumbres de los demás, aunque no sean iguales a las nuestras.



**4-** Debemos respetar las leyes que se rigen en la sociedad, tener buena conducta.

Escoge (2) dos DEBERES de los que más te gusta y PEGA (1) UNA LAMINA POR CADA UNA.

### CIENCIAS NATURALES

Las partes de las plantas

¿Qué parte de estas plantas nos comemos? Une con flechas.



semillas



tallo



hoja



fruto



raíz





MATEMATICAS

Observa las imágenes y escribe sus respectivos nombres en cada recuadro

La galleta goba

**CUERPOS GEOMÉTRICOS**

